

Dénombrement Niveau 1





Combien y a t'il d'écureuils ?



1

9

3



Combien y a t'il d'écureuils ?



1

9

3



Combien y a t'il d'écureuils ?



6

5

8



Combien y a t'il d'écureuils ?



6

5

8



Combien y a t'il d'écureuils ?



7

5

8



Combien y a t'il d'écureuils ?




7

5

8



Combien y a t'il d'écureuils ?



9

10

5



Combien y a t'il d'écureuils ?



9

10

11



Combien y a t'il d'écureuils ?



9

3

8



Combien y a t'il d'écureuils ?




9

3


8



Qui en a le moins ?



Julie




Paul


C'est qui a le moins de cailloux.



Qui en a le moins ?



Julie




Paul



C'est **Julie** qui a le moins de cailloux.




Qui en a le plus ?



Julie




Paul




C'est qui a le plus de cailloux.



Qui en a le plus ?



Julie




Paul



C'est **Julie** qui a le plus de cailloux.




Qui en a le plus ?



Julie




Paul



C'est qui a le plus de cailloux.




Qui en a le plus ?



Julie




Paul




C'est **Paul** qui a le plus de cailloux.



Qui en a le moins ?



Julie




Paul


C'est qui a le moins de cailloux.



Qui en a le moins ?



Julie




Paul




C'est **Julie** qui a le moins de cailloux.



Qui en a le moins ?



Julie




Paul


C'est qui a le moins de cailloux.



Qui en a le moins ?



Julie




Paul

C'est **Paul** qui a le moins de cailloux.



Combien y a t'il d'abeilles ?




13

11

15



Combien y a t'il d'abeilles ?




13

11

15



Combien y a t'il d'abeilles ?




13

11

15



Combien y a t'il d'abeilles ?




13

11

15



Combien y a t'il d'abeilles ?




13

11

15



Combien y a t'il d'abeilles ?




13

11

15



Combien y a t'il d'abeilles ?




13

18

15



Combien y a t'il d'abeilles ?




13

18

15



Combien y a t'il d'abeilles ?




19

18

15



Combien y a t'il d'abeilles ?



19

18

15

Dénombrement Niveau 2





Combien y a t'il d'écureuils ?

d	u



Il y a écureuils.


Il y adizaines.

Il y aunités.




Combien y a-t'il d'écureuils ?

d	u
2	2



Il y a 22 écureuils.



Il y a 2 dizaines.

Il y a 2 unités.



Combien y a t'il d'écureuils ?

D	U



Il y a écureuils.


Il y adizaines.

Il y aunités.



Combien y a-t'il d'écureuils ?

d	u
2	5



Il y a 25 écureuils.

Il y a 2 dizaines.

Il y a 5 unités.



Combien y a t'il de cailloux ?

D	U



Il y acailloux.




Il y adizaines.

Il y aunités.



Combien y a t'il de cailloux ?

d	u
3	3



Il y a 33 cailloux.


Il y a 3 dizaines.

Il y a 3 unités.



Combien y a t'il de cailloux ?

D	U



Il y acailloux.


Il y adizaines.

Il y aunités.



Combien y a t'il de cailloux ?


d	u
4	3



Il y a 43 cailloux.

Il y a 4 dizaines.


Il y a 3 unités.



Julie




Paul




C'est qui a le plus de cailloux.



Qui en a le plus ?



Julie



Paul



C'est **Paul** qui a le plus de cailloux.



Combien y a t'il d'abeilles ?

d	u



Il y a abeilles.


Il y adizaines.

Il y aunités.



Combien y a t'il d'abeilles ?

d	u
6	3



Il y a 63 abeilles.

Il y a 6 dizaines.

Il y a 3 unités.



Combien y a t'il d'abeilles ?

D	U



Il y a abeilles.


Il y adizaines.

Il y aunités.



Combien y a-t'il d'abeilles ?

D	U
6	5




Il y a 65 abeilles.

Il y a 6 dizaines.

Il y a 5 unités.




Qui en a le moins ?



Julie




Paul



C'est qui a le moins de cailloux.




Qui en a le moins ?



Julie




Paul



C'est **Julie** qui a le moins de cailloux.



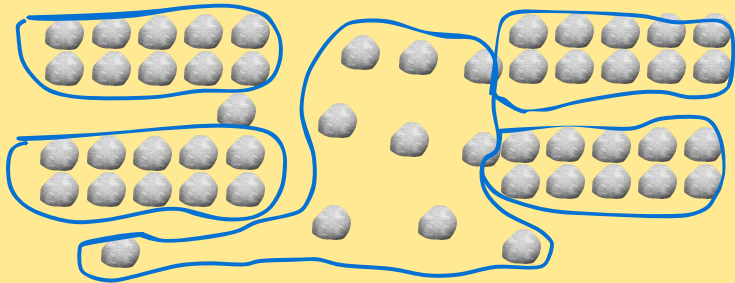
Combien y a t'il de cailloux ?



Il y a cailloux.




Combien y a t'il de cailloux ?



Il y a 51 cailloux.



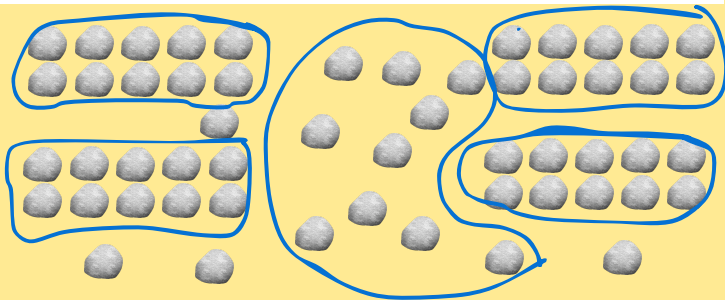
Combien y a t'il de cailloux ?



Il y a cailloux.



Combien y a t'il de cailloux ?



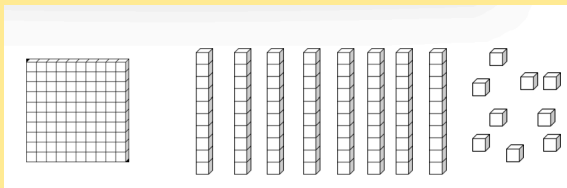
Il y a 54 cailloux.

Dénombrement Niveau 3





Quel est ce nombre ?



C

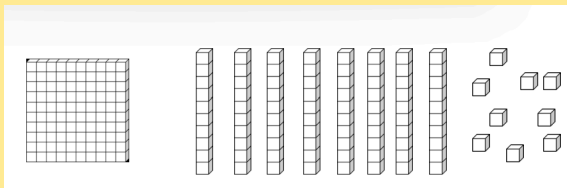
D

U

C'est le nombre



Quel est ce nombre ?



C

D

U

1

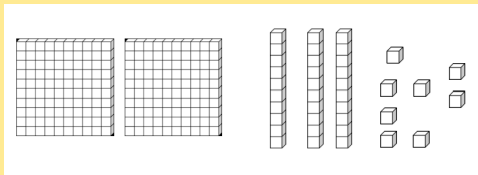
8

9

C'est le nombre 189



Quel est ce nombre ?



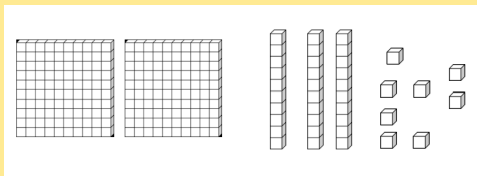
C

D

U

C'est le nombre

Quel est ce nombre ?



C

D

U

2

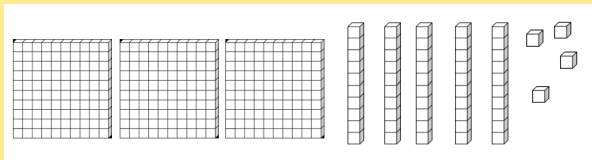
3

8

C'est le nombre 238



Quel est ce nombre ?



C

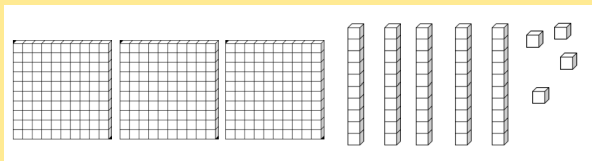
D

U

C'est le nombre



Quel est ce nombre ?



C

D

U

3

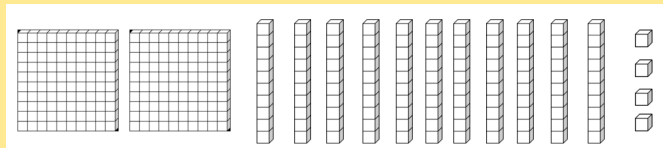
5

4

C'est le nombre 354



Quel est ce nombre ?



C

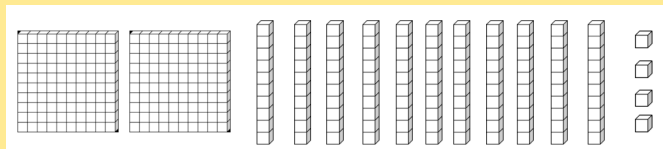
D

U

C'est le nombre



Quel est ce nombre ?



C

D

U

3

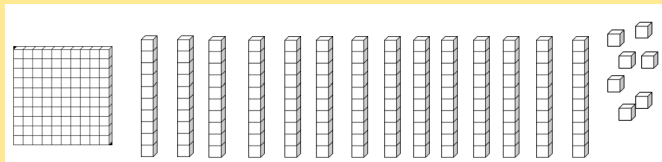
1

4

C'est le nombre 314



Quel est ce nombre ?



C

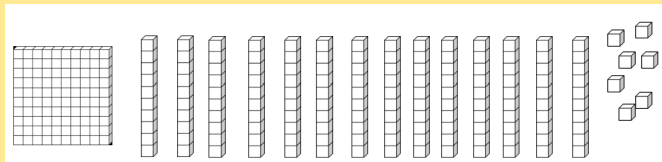
D

U

C'est le nombre



Quel est ce nombre ?



C

D

U

2

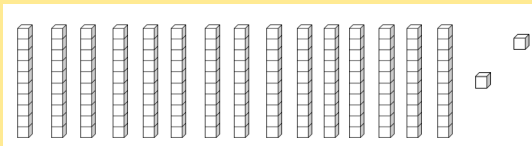
4

7

C'est le nombre 247



Quel est ce nombre ?



C

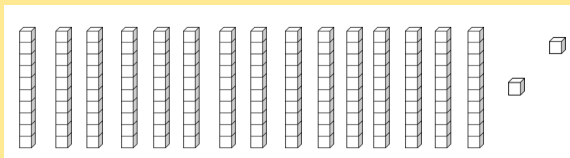
D

U

C'est le nombre



Quel est ce nombre ?



C

D

U

1

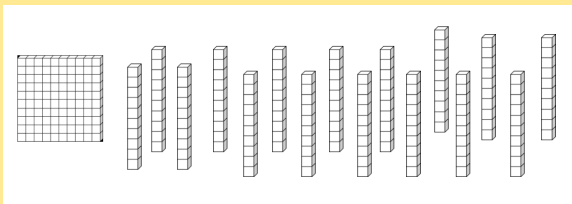
5

2

C'est le nombre 152



Quel est ce nombre ?



C

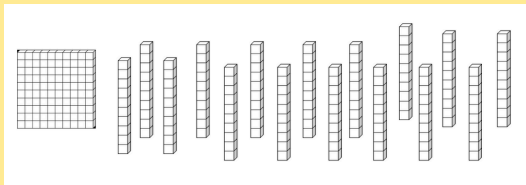
D

U

C'est le nombre



Quel est ce nombre ?



C

D

U

2

6

0

C'est le nombre 260



Quel est le plus grand nombre ?

456

564



Quel est le plus grand nombre ?

456

564



Quel est le plus grand nombre ?

768

345



Quel est le plus grand nombre ?

768

345



Quel est le plus petit nombre ?

768

345



Quel est le plus petit nombre ?

768

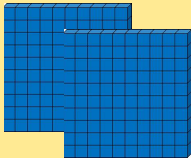
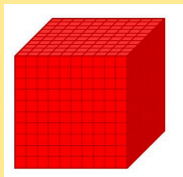
345



Dénombrement Niveau 4



Quel est ce nombre ?

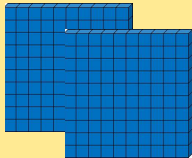
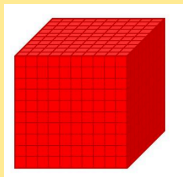


M	C	D	U

C'est le nombre



Quel est ce nombre ?

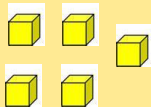
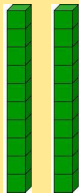
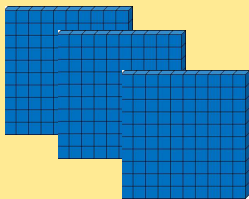
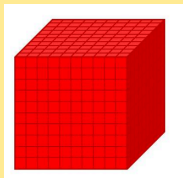


M	C	D	U
1	2	1	1

C'est le nombre 1 211



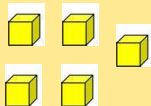
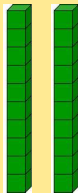
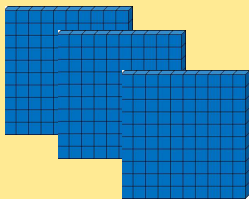
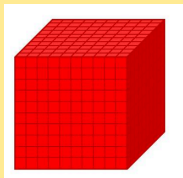
Quel est ce nombre ?



M	C	D	U

C'est le nombre

Quel est ce nombre ?

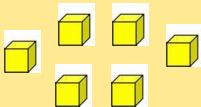
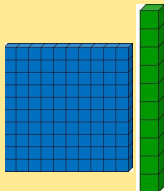
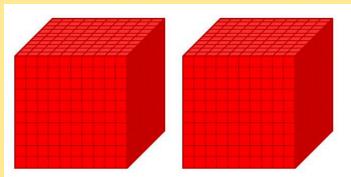


M	C	D	U
1	3	2	5

C'est le nombre 1 325



Quel est ce nombre ?

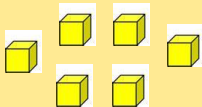
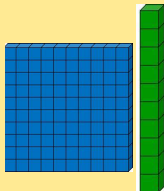
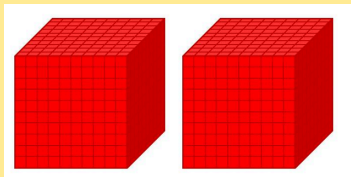


M	C	D	U

C'est le nombre



Quel est ce nombre ?

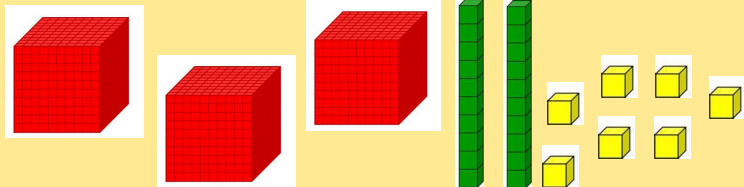


M	C	D	U
2	1	1	6

C'est le nombre 2 116



Quel est ce nombre ?

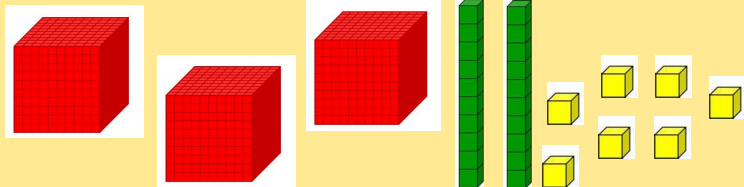


M	C	D	U

C'est le nombre



Quel est ce nombre ?

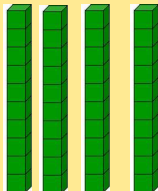





M	C	D	U
3	0	2	7

C'est le nombre 3 027



Quel est ce nombre ?

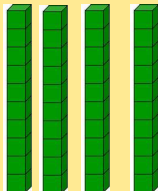





M	C	D	U

C'est le nombre



Quel est ce nombre ?


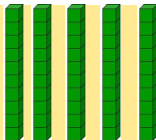




M	C	D	U
2	2	4	3

C'est le nombre 2 243



Quel est ce nombre ?







M	C	D	U

C'est le nombre



Quel est ce nombre ?



M	C	D	U
2	1	0	3

C'est le nombre 2 103



Quel est le plus grand nombre ?

3 456

3 563



Quel est le plus grand nombre ?

3 456

3 563



Quel est le plus grand nombre ?

2 406

2 003



Quel est le plus grand nombre ?

2 406

2 003



Quel est le plus petit nombre ?

1 000

1 003



Quel est le plus petit nombre ?

1 000

1 003



Quel est le plus petit nombre ?

3 786

2 345



Quel est le plus petit nombre ?

3 786

2 345